



اسمي: ..... الصف: الثالث (.....)

**اقرأ الفقرة، ثم أجب عن الأسئلة التالية:**

خَلَقَ اللَّهُ سُبْحَانَهُ وَ تَعَالَى - الطَّبِيعَةَ لِتَعْمَلَ وَفُق قَوَانِينِ مُحَدَّدَةٍ، فَطَبَقَهُ الْأَوْزُون جُزْءٍ مِنَ الْغُلَافِ الْجَوِيِّ لَكَوَكَبِ الْأَرْضِ وَ الَّذِي يَحْتَوِي بِشَكْلِ مُكْتَفٍ عَلَى غَازِ الْأَوْزُون وَ تَعْمَلُ طَبَقَةُ الْأَوْزُون عَلَى حِمَايَةِ الْأَرْضِ مِنَ الْأَشْعَاعَاتِ الضَّارَّةِ، فَيُسَبِّبُ الدُّخَانُ الَّذِي يَتَصَاعَدُ إِلَى الْهَوَاءِ تَدْمِيرَ طَبَقَةِ (الْأَوْزُون) فِي الْجَوِ.  
تَتَنَوَّعُ الْأَعْمَالُ الَّتِي يُمَكِّنُنَا الْقِيَامُ بِهَا لِحِمَايَةِ بِيئَتِنَا مِنَ التَّلَوُّثِ: مِنْهَا تَرْشِيدُ اسْتِهْلَاكِ الطَّاقَةِ، اسْتِخْدَامُ وَسَائِلِ النَّقْلِ الْجَمَاعِيِّ، وَ إِعَادَةُ تَدْوِيرِ النِّفَايَاتِ.

**اختر الإجابة الصحيحة مما يأتي برسم دائرة حول رمزها المناسب :**

1. يَنْتِجُ عَنْ تَلَوُّثِ الْهَوَاءِ تَدْمِيرَ طَبَقَةِ :

أ. الْأَوْزُون .

ب. الْأُذُن .

ت. الْمَاء .

2. تَعْمَلُ طَبَقَةُ (الْأَوْزُون) عَلَى حِمَايَةِ الْأَرْضِ مِنْ :

أ. الْمَذْنِبَات .

ب. الْإِشْعَاعَاتِ الضَّارَّة .

ت. النِّيَازُكَ .

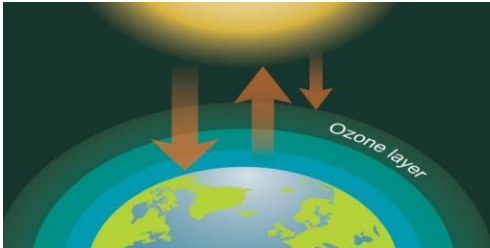


### 3. من مسببات ثقب الأوزون:

- أ. دخان المصانع.
- ب. غاز الاكسجين.
- ت. مياه الأمطار.

### 4. استخدامي للأشياء المستعملة سابقاً في تصميم أعمال جديدة ومفيدة يسمى:

- أ. دورة الماء .
- ب. إعادة التدوير.
- ت. السلسلة الغذائية .

### 5. الصورة التي تعبر إعادة التدوير، هي :

	أ.
	ب.
	ت.